


1 グラフとひょう(1)

月 日

1

した^しのえを^み見てこたえましょう。



ぶん^{ぶん}ぼうぐは、それぞれいくつありますか。
グラフに○をかいてみましょう。

ぶん^{ぶん}ぼうぐの なまえと かず

				○
○				○
○	○			○
○	○		○	○
○	○	○	○	○
○	○	○	○	○
えん ぴつ	のり	はさみ	ものさし	クリップ

じこひょうか

じこひょうか		

1 グラフとひょう(2)

月 日

1

した^しのえ^みを見てこたえましょう。



ぶん^{ぶん}ぼうぐは、それぞれいくつありますか。
ひょうにかずをかいてみましょう。

ぶん^{ぶん}ぼうぐの なまえと かず

なまえ	えんぴつ	のり	はさみ	ものさし	クリップ
かず	5	4	2	3	6

じこひょうか

--	--	--

1 グラフとひょう(3)

月 日

1

クラスのみんなで、^{せい}生かつのじかん^{はな}にうえる花について
はなしあいました。

うえたい^{はな}花を^{みぎ}しらべて右のグラフにあらわしました。



はな 花の	なまえと	にんずう 人数	
		○	
		○	
○		○	
○		○	○
○	○	○	○
○	○	○	○
○	○	○	○
ひ ま わ り	あ じ さ い	あ さ が お	ク ロ ー バ ー

① いちばん^{おお}多い^{はな}花はなんですか。

こたえ. あさがお

② いちばん^{すく}少ない^{はな}花はなんですか。

こたえ. あじさい

じこひょうか		

I グラフとひょう(4)


月 日

I

クラスみんなで、^{がく}学きゅうかつどうのじかんにしたい
スポーツについてはなしあいました。

したいスポーツをしらべて右のグラフにあらわしました。

スポーツの なまえと ^{にんずう}人数



○			
○		○	
○		○	
○		○	○
○	○	○	○
○	○	○	○
○	○	○	○
サッカー	なわとび	とびばこ	ドッジボール

- ① とびばことなわとびの^{にんずう}人数のちがいは
いくつですか。

こたえ. 3

- ② サッカーとドッジボールではどちらが^{なんにん}何人おおいですか。

こたえ. サッカー が 3 人 おおい。

じこひょうか		

I グラフとひょう(5)

月 日

I

グラフやひょうにあらわすと、どんなことがわかりやすくなりますか。

した
下のもんだいに㊦、㊧のきごうでこたえましょう。

㊦ ぶん 文ぼうぐの なまえと かず

				○
○				○
○	○			○
○	○		○	○
○	○	○	○	○
○	○	○	○	○
えん	の	は	も	ク
ぴ	り	さ	の	リ
つ		み	さ	ッ
			し	プ

㊧ ぶん 文ぼうぐの なまえと かず




なまえ	えんぴつ	のり	はさみ	ものさし	クリップ
かず	5	4	2	3	6

㊦ 数のかず 数の多い少ないがわかりやすいのはどちらですか。

こたえ. ㊦

㊧ 数のかず 数がわかりやすいのはどちらですか。

こたえ. ㊧

じこひょうか		
		

I グラフとひょう(6)

月 日

1

たかしくんたちは、グラフについて^{はな}話し^あ合っています。
それぞれどんなところにちゅう^{もく}目していますか。
^{した}下のもんだいにこたえましょう。



たかし

サッカーをえらんだ人^{ひと}がいちばん^{おお}多いです。



のぞみ

とびばこをえらんだ人^{ひと}はドッジボールを
えらんだ人^{ひと}より2人^{にん}多いです。



まなぶ

なわとびをえらんだ人^{ひと}がいちばん^{すく}少ないです。

スポーツの なまえと ^{にんずう}人数

○			
○		○	
○		○	
○		○	○
○	○	○	○
○	○	○	○
○	○	○	○
サ ッ カ ー	な わ と び	と び ば こ	ド ッ ジ ボ ー ル

① いちばん^{すく}少ないものにちゅう^{もく}目している人^{ひと}はだれですか。

こたえ. **まなぶ**

② いちばん^{おお}多いものにちゅう^{もく}目している人^{ひと}はだれですか。

こたえ. **たかし**

③ 数^{かず}のちがいにちゅう^{もく}目している人^{ひと}はだれですか。

こたえ. **のぞみ**

じこひょうか

