

1

ひっ算<sup>きん</sup>をれんしゅうしてみよう。

①  $20 - 6$

-		
-----		

②  $16 - 15$

-		
-----		

③  $15 - 9$

-		
-----		

④  $79 - 63$

-		
-----		




⑤  $42 - 34$

-		
-----		

⑥  $21 - 20$

-		
-----		

じこひょうか

		
--	---	---