

1

ひっ算^{きん}をれんしゅうしてみよう。

① $70 - 47$

-		

② $17 - 3$

-		

③ $26 - 8$

-		

④ $30 - 7$

-		




⑤ $44 - 30$

-		

⑥ $46 - 40$

-		

じこひょうか

		
--	---	---

ひきざんのひっさん
40

こたえ

④ ①
23 23⑤ ②
14 14⑥ ③
6 18