

① ひっ<sup>さん</sup>算をれんしゅうしてみよう。

①  $53 - 35$

-		
-----		

②  $43 - 4$

-		
-----		

③  $13 - 10$

-		
-----		

④  $97 - 29$

-		
-----		




⑤  $46 - 25$

-		
-----		

⑥  $39 - 18$

-		
-----		

じこひょうか

		
--	---	---

46

ひきざんのひっさん

こたえ

④ 1  
68 18⑤ 2  
21 39⑥ 3  
21 3