

1

ひっ算<sup>きん</sup>をれんしゅうしてみよう。

①  $11 - 6$

-		
-----		

②  $35 - 31$

-		
-----		

③  $19 - 3$

-		
-----		

④  $66 - 49$

-		
-----		




⑤  $74 - 73$

-		
-----		

⑥  $48 - 15$

-		
-----		

じこひょうか

		
--	---	---

56

ひきざんのひっさん

こたえ

④ 17  
① 5⑤ 1  
② 4⑥ 33  
③ 16