

1

ひっ算<sup>きん</sup>をれんしゅうしてみよう。

①  $98 + 1$

+		
-----		

②  $22 + 28$

+		
-----		

③  $93 + 3$

+		
-----		

④  $29 + 68$

+		
-----		




⑤  $58 + 10$

+		
-----		

⑥  $76 + 5$

+		
-----		

じこひょうか

		
--	---	---