

1

かさのたんいをけい算しよう。

① 1 L =          dL


④ 10 dL =          L

② 7 L =          dL

⑤ 90 dL =          L

③ 7 L =          dL

⑥ 30 dL =          L

じこひょうか		
		

かさのたんい(1)

-

こたえ

④ 1  
① 10⑤ 9  
② 70⑥ 3  
③ 70

1

かさのたんいをけい算しよう。

① 1 L =          dL



④ 40 dL =          L

② 8 L =          dL

⑤ 60 dL =          L

③ 2 L =          dL

⑥ 80 dL =          L

じこひょうか		
		

かさのたんい(1)  
2

こたえ

④ 4  
① 10⑤ 6  
② 80⑥ 8  
③ 20

1

かさのたんいをけい算<sup>さん</sup>しよう。

① 4 L =            dL




④ 10 dL =            L

② 5 L =            dL

⑤ 50 dL =            L

③ 8 L =            dL

⑥ 30 dL =            L

じこひょうか		
		

1

かさのたんいをけい算しよう。

① 1 L =          dL

④ 20 dL =          L

② 9 L =          dL

⑤ 50 dL =          L

③ 4 L =          dL

⑥ 70 dL =          L

じこひょうか		
		

かさのたんい(1)  
4

こたえ

④ 2  
① 10⑤ 5  
② 90⑥ 7  
③ 40

1

かさのたんいをけい算しよう。

① 3 L =          dL

④ 10 dL =          L

② 7 L =          dL

⑤ 80 dL =          L

③ 7 L =          dL

⑥ 70 dL =          L

じこひょうか		
		

かさのたんい(1)  
5

こたえ

④ 1  
① 30⑤ 8  
② 70⑥ 7  
③ 70

1

かさのたんいをけい算しよう。

① 2 L =          dL

④ 10 dL =          L

② 5 L =          dL

⑤ 80 dL =          L

③ 5 L =          dL

⑥ 40 dL =          L

じこひょうか		
		

かさのたんい(1)  
6

こたえ

④ 1  
① 20⑤ 8  
② 50⑥ 4  
③ 50

1

かさのたんいをけい算しよう。

① 2 L =          dL

④ 10 dL =          L

② 8 L =          dL

⑤ 90 dL =          L

③ 4 L =          dL

⑥ 40 dL =          L

かさのたんい(1)  
7

こたえ

④ 1  
① 20⑤ 9  
② 80⑥ 4  
③ 40

1

かさのたんいをけい算しよう。

① 3 L =          dL



④ 30 dL =          L

② 8 L =          dL

⑤ 80 dL =          L

③ 3 L =          dL

⑥ 20 dL =          L

じこひょうか		
		

かさのたんい(1)  
8

こたえ

④ 1  
3 30⑤ 2  
8 80⑥ 3  
2 30



1

かさのたんいをけい算しよう。

① 1 L =          dL

④ 30 dL =          L

② 9 L =          dL

⑤ 70 dL =          L

③ 6 L =          dL

⑥ 80 dL =          L

じこひょうか		
		

かさのたんい(1)  
9

こたえ

④ 1  
③ 10⑤ 2  
② 90⑥ 3  
① 60  
⑧

1

かさのたんいをけい算しよう。

① 1 L =            dL

④ 30 dL =            L

② 8 L =            dL

⑤ 70 dL =            L

③ 2 L =            dL

⑥ 50 dL =            L

じこひょうか		
		

かさのたんい(1)  
10

こたえ

④ 1  
③ 10

⑤ 2  
② 80

⑥ 3  
③ 20

1

かさのたんいをけい算しよう。

① 3 L =          dL



④ 40 dL =          L

② 9 L =          dL

⑤ 90 dL =          L

③ 3 L =          dL

⑥ 40 dL =          L

じこひょうか		
		

かさのたんい(1)  
=

こたえ

④ ①  
4 30⑤ ②  
9 90⑥ ③  
4 30

1

かさのたんいをけい算しよう。

① 2 L =          dL

④ 40 dL =          L

② 9 L =          dL

⑤ 90 dL =          L

③ 6 L =          dL

⑥ 30 dL =          L

かさのたんい(1)  
12

こたえ

④ ①  
4 20⑤ ②  
9 90⑥ ③  
3 60

1

かさのたんいをけい算しよう。

① 2 L =          dL


④ 20 dL =          L

② 8 L =          dL

⑤ 80 dL =          L

③ 8 L =          dL

⑥ 20 dL =          L



1

かさのたんいをけい算しよう。

① 1 L =          dL

④ 10 dL =          L

② 8 L =          dL

⑤ 80 dL =          L

③ 2 L =          dL

⑥ 70 dL =          L

じこひょうか		
		

14

かさのたんい(1)

こたえ

④ 10

⑤ 80

⑥ 720

1

かさのたんいをけい算しよう。

① 4 L =          dL


④ 10 dL =          L

② 6 L =          dL

⑤ 70 dL =          L

③ 7 L =          dL

⑥ 50 dL =          L

じこひょうか		
		

かさのたんい(1)  
15

こたえ

④ 1  
40⑤ 7  
60⑥ 5  
70

1

かさのたんいをけい算<sup>さん</sup>しよう。

① 1 L =          dL

④ 30 dL =          L

② 6 L =          dL

⑤ 90 dL =          L

③ 9 L =          dL

⑥ 50 dL =          L

じこひょうか		
		

かさのたんい(1)  
16

こたえ

④ 1  
③ 10⑤ 9  
② 60⑥ 5  
③ 90



1

かさのたんいをけい算しよう。

① 3 L =          dL

④ 20 dL =          L

② 8 L =          dL

⑤ 60 dL =          L

③ 3 L =          dL

⑥ 20 dL =          L

じこひょうか		
		

かさのたんい(1)  
17

こたえ

④ ①  
2 30⑤ ②  
6 80⑥ ③  
2 30

1

かさのたんいをけい算しよう。

① 3 L =          dL



④ 30 dL =          L

② 9 L =          dL

⑤ 60 dL =          L

③ 5 L =          dL

⑥ 60 dL =          L

じこひょうか		
		

かさのたんい(1)  
18

こたえ

④ 1  
3 30⑤ 2  
6 90⑥ 3  
6 50

1

かさのたんいをけい算しよう。

① 4 L =          dL

④ 40 dL =          L

② 6 L =          dL

⑤ 90 dL =          L

③ 9 L =          dL

⑥ 20 dL =          L

かさのたんい(1)  
19

こたえ

④ 4  
① 40⑤ 9  
② 60⑥ 2  
③ 90

1

かさのたんいをけい算しよう。

① 1 L =          dL

④ 40 dL =          L

② 8 L =          dL

⑤ 90 dL =          L

③ 3 L =          dL

⑥ 60 dL =          L

じこひょうか		
		

かさのたんい(1)  
20

こたえ

④ 4  
① 10⑤ 9  
② 80⑥ 6  
③ 30

1

かさのたんいをけい算しよう。

① 1 L =          dL

④ 20 dL =          L

② 7 L =          dL

⑤ 70 dL =          L

③ 4 L =          dL

⑥ 20 dL =          L

じこひょうか		
		

かさのたんい(1)  
21

こたえ

④ 1  
2 10⑤ 2  
7 70⑥ 3  
2 40

1

かさのたんいをけい算しよう。

① 2 L =          dL

④ 20 dL =          L

② 9 L =          dL

⑤ 60 dL =          L

③ 4 L =          dL

⑥ 40 dL =          L



1

かさのたんいをけい算<sup>さん</sup>しよう。

① 4 L =          dL

④ 10 dL =          L

② 9 L =          dL

⑤ 80 dL =          L

③ 3 L =          dL

⑥ 30 dL =          L

じこひょうか		
		

1

かさのたんいをけい算しよう。

①  $2 \text{ L} = \quad \text{dL}$

④  $30 \text{ dL} = \quad \text{L}$

②  $9 \text{ L} = \quad \text{dL}$

⑤  $90 \text{ dL} = \quad \text{L}$

③  $9 \text{ L} = \quad \text{dL}$

⑥  $60 \text{ dL} = \quad \text{L}$





1

かさのたんいをけい算しよう。

① 1 L = dL

④ 20 dL = L

② 9 L = dL

⑤ 80 dL = L

③ 9 L = dL

⑥ 60 dL = L

じこひょうか		
		

1

かさのたんいをけい算しよう。

① 3 L =          dL

④ 40 dL =          L

② 5 L =          dL

⑤ 90 dL =          L

③ 1 L =          dL

⑥ 50 dL =          L



1

かさのたんいをけい算しよう。

① 4 L =          dL

④ 10 dL =          L

② 9 L =          dL

⑤ 60 dL =          L

③ 4 L =          dL

⑥ 70 dL =          L



1

かさのたんいをけい算しよう。

① 1 L =          dL

④ 10 dL =          L

② 6 L =          dL

⑤ 60 dL =          L

③ 7 L =          dL

⑥ 30 dL =          L

じこひょうか		
		

1

かさのたんいをけい算しよう。

① 3 L =          dL


④ 40 dL =          L

② 7 L =          dL

⑤ 60 dL =          L

③ 5 L =          dL

⑥ 80 dL =          L

じこひょうか		
		

1

かさのたんいをけい算しよう。

① 4 L =          dL


④ 40 dL =          L

② 9 L =          dL

⑤ 80 dL =          L

③ 5 L =          dL

⑥ 50 dL =          L

じこひょうか		
		

かさのたんい(1)  
30

こたえ

④ 1  
4 40⑤ 2  
8 90⑥ 3  
5 50