

1

かさのたんいをけい算しよう。

① 3 L = dL

④ 20 dL = L

② 7 L = dL

⑤ 70 dL = L

③ 1 L = dL

⑥ 40 dL = L

じこひょうか		
		

かさのたんい(1)  
31

こたえ

④ 1  
2 30⑤ 2  
7 70⑥ 3  
4 10

1

かさのたんいをけい算しよう。

① 1 L =          dL

④ 10 dL =          L

② 8 L =          dL

⑤ 60 dL =          L

③ 9 L =          dL

⑥ 60 dL =          L

じこひょうか		
		

1

かさのたんいをけい算しよう。

① 1 L =            dL



④ 10 dL =            L

② 8 L =            dL

⑤ 70 dL =            L

③ 9 L =            dL

⑥ 60 dL =            L

じこひょうか		
		

1

かさのたんいをけい算しよう。

① 2 L =          dL


④ 40 dL =          L

② 8 L =          dL

⑤ 50 dL =          L

③ 2 L =          dL

⑥ 70 dL =          L



1

かさのたんいをけい算しよう。

① 3 L =          dL

④ 40 dL =          L

② 6 L =          dL

⑤ 70 dL =          L

③ 3 L =          dL

⑥ 50 dL =          L

じこひょうか		
		

かさのたんい(1)  
35

こたえ

④ ①  
4 30⑤ ②  
7 60⑥ ③  
5 30

1

かさのたんいをけい算しよう。

① 3 L =          dL

④ 30 dL =          L

② 6 L =          dL

⑤ 80 dL =          L

③ 4 L =          dL

⑥ 20 dL =          L

じこひょうか		
		

1 かさのたんいをけい算しよう。

① 3 L =            dL




④ 30 dL =            L

② 9 L =            dL

⑤ 70 dL =            L

③ 7 L =            dL

⑥ 60 dL =            L

じこひょうか		
		

1

かさのたんいをけい算しよう。

① 1 L =          dL

④ 40 dL =          L

② 6 L =          dL

⑤ 90 dL =          L

③ 6 L =          dL

⑥ 70 dL =          L





1

かさのたんいをけい算しよう。

① 2 L =          dL


④ 10 dL =          L

② 5 L =          dL

⑤ 90 dL =          L

③ 9 L =          dL

⑥ 80 dL =          L

じこひょうか		
		

かさのたんい(1)  
39

こたえ

④ 1  
① 20⑤ 9  
② 50⑥ 8  
③ 90

1

かさのたんいをけい算しよう。

① 1 L =          dL

④ 20 dL =          L

② 7 L =          dL

⑤ 60 dL =          L

③ 3 L =          dL

⑥ 60 dL =          L

じこひょうか		
		

かさのたんい(1)  
40

こたえ

④ 1  
2 10⑤ 2  
6 70⑥ 3  
6 30

1

かさのたんいをけい算しよう。

① 4 L =          dL


④ 30 dL =          L

② 6 L =          dL

⑤ 50 dL =          L

③ 2 L =          dL

⑥ 70 dL =          L

じこひょうか		
		

かさのたんい(1)  
41

こたえ

④ 1  
3 40⑤ 2  
5 60⑥ 3  
7 20

1

かさのたんいをけい算しよう。

① 1 L =          dL



④ 40 dL =          L

② 6 L =          dL

⑤ 50 dL =          L

③ 4 L =          dL

⑥ 60 dL =          L

じこひょうか		
		

かさのたんい(1)  
42

こたえ

④ 1  
4 10⑤ 2  
5 60⑥ 3  
6 40

① ① かさのたんいをけい算しよう。

① 3 L =            dL

④ 10 dL =            L

② 7 L =            dL

⑤ 70 dL =            L

③ 9 L =            dL

⑥ 50 dL =            L

じこひょうか		
		

1

かさのたんいをけい算しよう。

① 4 L =          dL



④ 10 dL =          L

② 6 L =          dL

⑤ 80 dL =          L

③ 3 L =          dL

⑥ 30 dL =          L

じこひょうか		
		

44

かさのたんい(1)

こたえ

④ 1

① 40

⑤ 8

② 60

⑥ 3

③ 30

1

かさのたんいをけい算しよう。

① 1 L =          dL


④ 20 dL =          L

② 6 L =          dL

⑤ 90 dL =          L

③ 7 L =          dL

⑥ 60 dL =          L

じこひょうか		
		

かさのたんい(1)  
45

こたえ

④ 2  
① 10⑤ 9  
② 60⑥ 6  
③ 70

① かさのたんいをけい算しよう。

① 3 L =            dL

④ 40 dL =            L

② 9 L =            dL

⑤ 90 dL =            L

③ 7 L =            dL

⑥ 50 dL =            L



かさのたんい(1)  
46

こたえ

④ 4  
① 30

⑤ 9  
② 90

⑥ 5  
③ 70



1

かさのたんいをけい算しよう。

① 2 L =          dL


④ 10 dL =          L

② 8 L =          dL

⑤ 80 dL =          L

③ 5 L =          dL

⑥ 60 dL =          L



1

かさのたんいをけい算しよう。

① 3 L =          dL

④ 40 dL =          L

② 5 L =          dL

⑤ 90 dL =          L

③ 9 L =          dL

⑥ 60 dL =          L



1

かさのたんいをけい算しよう。

① 3 L =          dL

④ 10 dL =          L

② 7 L =          dL

⑤ 50 dL =          L

③ 6 L =          dL

⑥ 40 dL =          L

かさのたんい(1)  
49

こたえ

④ 1  
① 30⑤ 5  
② 70⑥ 4  
③ 60

1

かさのたんいをけい算しよう。

① 1 L =          dL

④ 30 dL =          L

② 7 L =          dL

⑤ 60 dL =          L

③ 8 L =          dL

⑥ 20 dL =          L

じこひょうか		
		

かさのたんい(1)  
50

こたえ

④ 1  
③ 10⑤ 2  
② 70⑥ 8  
③ 80

1

かさのたんいをけい算しよう。

① 2 L =          dL




④ 40 dL =          L

② 9 L =          dL

⑤ 70 dL =          L

③ 7 L =          dL

⑥ 30 dL =          L

じこひょうか		
		

1

かさのたんいをけい算しよう。

① 4 L =            dL

④ 40 dL =            L

② 9 L =            dL

⑤ 50 dL =            L

③ 5 L =            dL

⑥ 70 dL =            L



1

かさのたんいをけい算しよう。

① 1 L =          dL


④ 10 dL =          L

② 8 L =          dL

⑤ 80 dL =          L

③ 7 L =          dL

⑥ 40 dL =          L

じこひょうか		
		

1

かさのたんいをけい算しよう。

① 4 L =          dL

④ 30 dL =          L

② 9 L =          dL

⑤ 60 dL =          L

③ 8 L =          dL

⑥ 50 dL =          L





1

かさのたんいをけい算しよう。

① 2 L =          dL


④ 20 dL =          L

② 5 L =          dL

⑤ 60 dL =          L

③ 7 L =          dL

⑥ 40 dL =          L

じこひょうか		
		

かさのたんい(1)  
55

こたえ

④ 1  
2 20⑤ 2  
6 50⑥ 3  
4 70

1

かさのたんいをけい算しよう。

① 2 L =          dL

④ 20 dL =          L

② 6 L =          dL

⑤ 90 dL =          L

③ 1 L =          dL

⑥ 80 dL =          L



1 かさのたんいをけい算しよう。

① 2 L =          dL



④ 4 0 dL =          L

② 7 L =          dL

⑤ 6 0 dL =          L

③ 1 L =          dL

⑥ 6 0 dL =          L

じこひょうか		
		

1 ① ② ③ ④ ⑤ ⑥  
かさのたんいをけい算しよう。

① 4 L =            dL

④ 20 dL =            L

② 6 L =            dL

⑤ 60 dL =            L

③ 2 L =            dL

⑥ 20 dL =            L



1

かさのたんいをけい算しよう。

① 1 L =            dL




④ 10 dL =            L

② 6 L =            dL

⑤ 60 dL =            L

③ 8 L =            dL

⑥ 50 dL =            L

じこひょうか		
		

1

かさのたんいをけい算しよう。

① 2 L = dL

④ 40 dL = L

② 8 L = dL

⑤ 70 dL = L

③ 5 L = dL

⑥ 20 dL = L

じこひょうか		
		

かさのたんい(1)  
60

こたえ

④ 1  
4 20⑤ 2  
7 80⑥ 3  
2 50