

1

なが 長さのたんいをけい算しよう。

① 1 cm = mm



④ 10 mm = cm

② 5 cm = mm

⑤ 80 mm = cm

③ 3 cm = mm

⑥ 80 mm = cm

じこひょうか		
		

長さのたんい(1)

-

こたえ

④ 10

⑤ 80

⑥ 80

③

②

30

1

なが
長さのたんいをけい算しよう。

① 3 cm = mm


④ 40 mm = cm

② 5 cm = mm

⑤ 50 mm = cm

③ 2 cm = mm

⑥ 50 mm = cm

じこひょうか		
		

1

なが 長さのたんいをけい算しよう。

① 3 cm = mm


④ 20 mm = cm

② 9 cm = mm

⑤ 60 mm = cm

③ 6 cm = mm

⑥ 80 mm = cm

じこひょうか		
		

1

なが 長さのたんいをけい算しよう。

① 1 cm = mm

④ 30 mm = cm

② 9 cm = mm

⑤ 60 mm = cm

③ 7 cm = mm

⑥ 70 mm = cm



1

なが 長さのたんいをけい算しよう。

① 2 cm = mm

④ 20 mm = cm

② 7 cm = mm

⑤ 60 mm = cm

③ 3 cm = mm

⑥ 80 mm = cm

じこひょうか		
		

1

なが 長さのたんいをけい算しよう。

① 3 cm = mm




④ 10 mm = cm

② 6 cm = mm

⑤ 60 mm = cm

③ 9 cm = mm

⑥ 20 mm = cm

じこひょうか		
		

長さのたんい(1)
6

こたえ

④ 1
① 30

⑤ 6
② 60

⑥ 2
③ 90

1

なが
長さのたんいをけい算しよう。

① 2 cm = mm

④ 20 mm = cm

② 8 cm = mm

⑤ 80 mm = cm

③ 7 cm = mm

⑥ 80 mm = cm

じこひょうか		
		

長さのたんい(1)

7

こたえ

④ 1
2 20⑤ 2
8 80⑥ 3
8 70

1

なが
長さのたんいをけい算しよう。

① 1 cm = mm

④ 30 mm = cm

② 8 cm = mm

⑤ 80 mm = cm

③ 7 cm = mm

⑥ 20 mm = cm

じこひょうか		
		

1

なが
長さのたんいをけい算しよう。

① 4 cm = mm



④ 30 mm = cm

② 9 cm = mm

⑤ 80 mm = cm

③ 3 cm = mm

⑥ 20 mm = cm

じこひょうか		
		

長さのたんい(1)
9

こたえ

④ 1
3 40

⑤ 2
8 90

⑥ 3
2 30

1

なが 長さのたんいをけい算しよう。

① 1 cm = mm

④ 10 mm = cm

② 6 cm = mm

⑤ 70 mm = cm

③ 8 cm = mm

⑥ 30 mm = cm

じこひょうか		
		

長さのたんい(1)
10

こたえ

④ 10

⑤ 70

⑥ 30

② 60

③ 80

1

なが 長さのたんいをけい算しよう。

① 1 cm = mm

④ 20 mm = cm

② 5 cm = mm

⑤ 60 mm = cm

③ 7 cm = mm

⑥ 60 mm = cm



長さのたんい(1)
=

こたえ

④ 1
2 10

⑤ 2
6 50

⑥ 3
6 70

1

なが
長さのたんいをけい算しよう。

① 3 cm = mm

④ 30 mm = cm

② 6 cm = mm

⑤ 50 mm = cm

③ 6 cm = mm

⑥ 30 mm = cm



1

なが
長さのたんいをけい算しよう。

① 4 cm = mm

④ 20 mm = cm

② 8 cm = mm

⑤ 50 mm = cm

③ 1 cm = mm

⑥ 40 mm = cm

じこひょうか		
		

1

なが 長さのたんいをけい算しよう。

① 3 cm = mm


④ 30 mm = cm

② 7 cm = mm

⑤ 90 mm = cm

③ 7 cm = mm

⑥ 70 mm = cm

じこひょうか		
		

1

なが 長さのたんいをけい算しよう。

① 4 cm = mm




④ 20 mm = cm

② 5 cm = mm

⑤ 50 mm = cm

③ 3 cm = mm

⑥ 40 mm = cm

じこひょうか		
		

長さのたんい(1)
15

こたえ

④ 1
2 40

⑤ 2
5 50

⑥ 3
4 30

1

なが
長さのたんいをけい算しよう。

① 3 cm = mm

④ 10 mm = cm

② 7 cm = mm

⑤ 90 mm = cm

③ 9 cm = mm

⑥ 60 mm = cm

じこひょうか		
		

1

なが 長さのたんいをけい算しよう。

① 3 cm = mm


④ 30 mm = cm

② 7 cm = mm

⑤ 50 mm = cm

③ 3 cm = mm

⑥ 30 mm = cm

じこひょうか		
		

1

なが
長さのたんいをけい算しよう。

① 1 cm = mm

④ 40 mm = cm

② 6 cm = mm

⑤ 80 mm = cm

③ 2 cm = mm

⑥ 50 mm = cm

じこひょうか		
		

1

なが 長さのたんいをけい算しよう。

① 3 cm = mm

④ 20 mm = cm

② 6 cm = mm

⑤ 60 mm = cm

③ 4 cm = mm

⑥ 30 mm = cm

じこひょうか		
		

長さのたんい(1)
19

こたえ

④ 1
2 30

⑤ 2
6 60

⑥ 3
3 40

1

なが 長さのたんいをけい算しよう。

① 2 cm = mm

④ 20 mm = cm

② 7 cm = mm

⑤ 70 mm = cm

③ 4 cm = mm

⑥ 70 mm = cm

じこひょうか		
		

1

なが 長さのたんいをけい算しよう。

① 3 cm = mm

④ 40 mm = cm

② 9 cm = mm

⑤ 90 mm = cm

③ 7 cm = mm

⑥ 20 mm = cm

じこひょうか		
		

1

なが
長さのたんいをけい算しよう。

① 4 cm = mm




④ 20 mm = cm

② 7 cm = mm

⑤ 50 mm = cm

③ 5 cm = mm

⑥ 30 mm = cm

じこひょうか		
		

1

なが 長さのたんいをけい算しよう。

① 3 cm = mm

④ 20 mm = cm

② 6 cm = mm

⑤ 60 mm = cm

③ 1 cm = mm

⑥ 70 mm = cm

じこひょうか		
		

1

なが
長さのたんいをけい算しよう。

① 3 cm = mm

④ 10 mm = cm

② 9 cm = mm

⑤ 50 mm = cm

③ 2 cm = mm

⑥ 40 mm = cm



1

なが 長さのたんいをけい算しよう。

① 2 cm = mm


④ 10 mm = cm

② 5 cm = mm

⑤ 80 mm = cm

③ 7 cm = mm

⑥ 60 mm = cm

じこひょうか		
		

1

なが 長さのたんいをけい算しよう。

① 1 cm = mm

④ 40 mm = cm

② 8 cm = mm

⑤ 70 mm = cm

③ 4 cm = mm

⑥ 50 mm = cm



1

なが
長さのたんいをけい算しよう。

① 1 cm = mm

④ 30 mm = cm

② 5 cm = mm

⑤ 60 mm = cm

③ 8 cm = mm

⑥ 40 mm = cm

じこひょうか		
		

1

なが
長さのたんいをけい算しよう。

① 3 cm = mm



④ 10 mm = cm

② 8 cm = mm

⑤ 70 mm = cm

③ 6 cm = mm

⑥ 50 mm = cm

じこひょうか		
		

1

なが
長さのたんいをけい算しよう。

① 2 cm = mm


④ 10 mm = cm

② 7 cm = mm

⑤ 60 mm = cm

③ 5 cm = mm

⑥ 70 mm = cm

じこひょうか		
		

1

なが 長さのたんいをけい算しよう。

① 4 cm = mm


④ 10 mm = cm

② 7 cm = mm

⑤ 90 mm = cm

③ 5 cm = mm

⑥ 30 mm = cm

じこひょうか		
		

長さのたんい(1)
30

こたえ

④ 1
① 40

⑤ 9
② 70

⑥ 3
③ 50