

1

なが 長さのたんいをけい算(さん)しよう。

① 3 cm 7 mm - 1 mm = cm mm




② 7 cm 9 mm - 2 mm = cm mm

③ 4 cm 3 mm - 3 mm = cm

④ 5 cm 9 mm - 7 mm = cm mm

⑤ 9 cm 7 mm - 3 mm = cm mm

じこひょうか

		
--	---	---

長さのたんい(6)

—

こたえ

④ ①

5 3

2 6

⑤ ②

9 7

4 7

③

4

1

なが 長さのたんいをけい算(さん)しよう。

① $4\text{ cm } 2\text{ mm} - 2\text{ mm} =$ cm


② $9\text{ cm } 2\text{ mm} - 2\text{ mm} =$ cm

③ $1\text{ cm } 2\text{ mm} - 1\text{ mm} =$ cm mm

④ $3\text{ cm } 8\text{ mm} - 5\text{ mm} =$ cm mm

⑤ $6\text{ cm } 2\text{ mm} - 1\text{ mm} =$ cm mm

じこひょうか



1

なが 長さのたんいをけい算(さん)しよう。

① $4\text{ cm } 5\text{ mm} - 2\text{ mm} =$ cm mm




② $6\text{ cm } 5\text{ mm} - 2\text{ mm} =$ cm mm

③ $3\text{ cm } 6\text{ mm} - 2\text{ mm} =$ cm mm

④ $1\text{ cm } 8\text{ mm} - 1\text{ mm} =$ cm mm

⑤ $6\text{ cm } 4\text{ mm} - 4\text{ mm} =$ cm

じこひょうか

		
--	---	---

1

なが 長さのたんいをけい算(さん)しよう。

① 1 cm 7 mm - 7 mm = cm




② 9 cm 6 mm - 4 mm = cm mm

③ 6 cm 6 mm - 3 mm = cm mm

④ 1 cm 5 mm - 2 mm = cm mm

⑤ 5 cm 4 mm - 2 mm = cm mm

じこひょうか

		
--	---	---

1

なが 長さのたんいをけい算(さん)しよう。

① 4 cm 6 mm - 6 mm = cm




② 9 cm 7 mm - 1 mm = cm mm

③ 5 cm 9 mm - 4 mm = cm mm

④ 5 cm 9 mm - 2 mm = cm mm

⑤ 8 cm 6 mm - 3 mm = cm mm

じこひょうか

		
--	---	---

1

なが 長さのたんいをけい算(さん)しよう。

① 2 cm 9 mm - 1 mm = cm mm


② 8 cm 3 mm - 2 mm = cm mm

③ 8 cm 6 mm - 5 mm = cm mm

④ 3 cm 2 mm - 2 mm = cm

⑤ 8 cm 6 mm - 4 mm = cm mm

じこひょうか



1

なが長さのたんいをけい算しよう。

① $3\text{ cm } 7\text{ mm} - 2\text{ mm} =$ cm mm


② $7\text{ cm } 9\text{ mm} - 7\text{ mm} =$ cm mm

③ $8\text{ cm } 9\text{ mm} - 9\text{ mm} =$ cm

④ $3\text{ cm } 8\text{ mm} - 3\text{ mm} =$ cm mm

⑤ $8\text{ cm } 9\text{ mm} - 7\text{ mm} =$ cm mm

じこひょうか



長さのたんい(6)

7

こたえ

④ 1 ③ 2 ⑤ 5 ② 7 ① 3 ④ 5 ③ 8 ⑤ 2 ② 8

1

なが 長さのたんいをけい算(さん)しよう。

① 3 cm 3 mm - 2 mm = cm mm


② 8 cm 5 mm - 1 mm = cm mm

③ 8 cm 4 mm - 2 mm = cm mm

④ 5 cm 3 mm - 1 mm = cm mm

⑤ 8 cm 3 mm - 1 mm = cm mm

じこひょうか



1

なが 長さのたんいをけい算(さん)しよう。

① 1 cm 2 mm - 2 mm = cm




② 5 cm 2 mm - 2 mm = cm

③ 3 cm 7 mm - 5 mm = cm mm

④ 4 cm 5 mm - 4 mm = cm mm

⑤ 9 cm 4 mm - 2 mm = cm mm

じこひょうか

		
--	---	---

1

なが 長さのたんいをけい算(さん)しよう。

① $2\text{ cm } 7\text{ mm} - 1\text{ mm} =$ cm mm


② $7\text{ cm } 6\text{ mm} - 2\text{ mm} =$ cm mm

③ $5\text{ cm } 9\text{ mm} - 6\text{ mm} =$ cm mm

④ $1\text{ cm } 4\text{ mm} - 2\text{ mm} =$ cm mm

⑤ $7\text{ cm } 9\text{ mm} - 1\text{ mm} =$ cm mm

じこひょうか



1

なが 長さのたんいをけい算(さん)しよう。

① 4 cm 6 mm - 6 mm = cm


② 9 cm 7 mm - 6 mm = cm mm

③ 1 cm 2 mm - 1 mm = cm mm

④ 1 cm 9 mm - 8 mm = cm mm

⑤ 9 cm 9 mm - 8 mm = cm mm

じこひょうか



長さのたんい(6)

11

こたえ

④ 1

1 4

1

⑤ 2

9 9

1

③

1

1

1

なが
長さのたんいをけい算^{さん}しよう。

① 1 cm 2 mm - 2 mm = cm


② 6 cm 8 mm - 3 mm = cm mm

③ 1 cm 5 mm - 2 mm = cm mm

④ 5 cm 3 mm - 2 mm = cm mm

⑤ 8 cm 4 mm - 1 mm = cm mm

じこひょうか



1

なが長さのたんいをけい算しよう。

① $3\text{ cm } 4\text{ mm} - 2\text{ mm} =$ cm mm


② $6\text{ cm } 4\text{ mm} - 2\text{ mm} =$ cm mm

③ $8\text{ cm } 8\text{ mm} - 1\text{ mm} =$ cm mm

④ $4\text{ cm } 7\text{ mm} - 7\text{ mm} =$ cm

⑤ $5\text{ cm } 7\text{ mm} - 4\text{ mm} =$ cm mm

じこひょうか



1

なが 長さのたんいをけい算(さん)しよう。

① 3 cm 4 mm - 4 mm = cm




② 7 cm 4 mm - 2 mm = cm mm

③ 5 cm 4 mm - 3 mm = cm mm

④ 1 cm 3 mm - 1 mm = cm mm

⑤ 5 cm 4 mm - 1 mm = cm mm

じこひょうか

		
--	---	---

1

なが長さのたんいをけい算^{さん}しよう。

① $3\text{ cm } 2\text{ mm} - 1\text{ mm} =$ cm mm


② $8\text{ cm } 5\text{ mm} - 3\text{ mm} =$ cm mm

③ $6\text{ cm } 5\text{ mm} - 3\text{ mm} =$ cm mm

④ $5\text{ cm } 5\text{ mm} - 4\text{ mm} =$ cm mm

⑤ $9\text{ cm } 6\text{ mm} - 4\text{ mm} =$ cm mm

じこひょうか



1

なが 長さのたんいをけい算(さん)しよう。

① 4 cm 6 mm - 5 mm = cm mm


② 6 cm 8 mm - 7 mm = cm mm

③ 2 cm 7 mm - 4 mm = cm mm

④ 2 cm 3 mm - 2 mm = cm mm

⑤ 6 cm 8 mm - 5 mm = cm mm

じこひょうか



1

なが
長さのたんいをけい算しよう。

① $4\text{ cm } 2\text{ mm} - 1\text{ mm} =$ cm mm


② $8\text{ cm } 9\text{ mm} - 1\text{ mm} =$ cm mm

③ $7\text{ cm } 2\text{ mm} - 1\text{ mm} =$ cm mm

④ $3\text{ cm } 7\text{ mm} - 3\text{ mm} =$ cm mm

⑤ $9\text{ cm } 9\text{ mm} - 6\text{ mm} =$ cm mm

じこひょうか



1

なが 長さのたんいをけい算^{さん}しよう。

① 4 cm 4 mm - 3 mm = cm mm


② 7 cm 8 mm - 8 mm = cm

③ 6 cm 6 mm - 2 mm = cm mm

④ 4 cm 6 mm - 6 mm = cm

⑤ 5 cm 6 mm - 1 mm = cm mm

じこひょうか



1

なが 長さのたんいをけい算(さん)しよう。

① $4\text{ cm } 6\text{ mm} - 2\text{ mm} =$ cm mm


② $9\text{ cm } 5\text{ mm} - 2\text{ mm} =$ cm mm

③ $1\text{ cm } 9\text{ mm} - 1\text{ mm} =$ cm mm

④ $5\text{ cm } 7\text{ mm} - 7\text{ mm} =$ cm

⑤ $5\text{ cm } 5\text{ mm} - 4\text{ mm} =$ cm mm

じこひょうか



長さのたんい(6)

19

こたえ

④ 1

5 4

4

⑤ 2

5 9

1 3

③

1

8

1

なが 長さのたんいをけい算(さん)しよう。

① 1 cm 9 mm - 9 mm = cm




② 6 cm 2 mm - 2 mm = cm

③ 7 cm 3 mm - 2 mm = cm mm

④ 2 cm 8 mm - 3 mm = cm mm

⑤ 8 cm 6 mm - 5 mm = cm mm

じこひょうか

		
--	---	---

1

なが 長さのたんいをけい算(さん)しよう。

① 1 cm 6 mm - 1 mm = cm mm




② 7 cm 7 mm - 5 mm = cm mm

③ 9 cm 3 mm - 3 mm = cm

④ 2 cm 9 mm - 2 mm = cm mm

⑤ 9 cm 7 mm - 4 mm = cm mm

じこひょうか

		
--	---	---

1

なが 長さのたんいをけい算(さん)しよう。

① 4 cm 8 mm - 5 mm = cm mm


② 5 cm 7 mm - 1 mm = cm mm

③ 2 cm 7 mm - 4 mm = cm mm

④ 4 cm 9 mm - 4 mm = cm mm

⑤ 7 cm 2 mm - 2 mm = cm

じこひょうか



1

なが 長さのたんいをけい算(さん)しよう。

① $3\text{ cm } 7\text{ mm} - 1\text{ mm} =$ cm mm


② $8\text{ cm } 7\text{ mm} - 1\text{ mm} =$ cm mm

③ $1\text{ cm } 6\text{ mm} - 6\text{ mm} =$ cm

④ $2\text{ cm } 2\text{ mm} - 2\text{ mm} =$ cm

⑤ $7\text{ cm } 5\text{ mm} - 5\text{ mm} =$ cm

じこひょうか



1

なが 長さのたんいをけい算(さん)しよう。




① 3 cm 3 mm - 3 mm = cm

② 9 cm 9 mm - 6 mm = cm mm

③ 9 cm 5 mm - 4 mm = cm mm

④ 4 cm 4 mm - 4 mm = cm

⑤ 7 cm 5 mm - 4 mm = cm mm

じこひょうか		
		

1

なが 長さのたんいをけい算(さん)しよう。

① $2\text{ cm } 9\text{ mm} - 7\text{ mm} =$ cm mm


② $9\text{ cm } 9\text{ mm} - 9\text{ mm} =$ cm

③ $9\text{ cm } 3\text{ mm} - 1\text{ mm} =$ cm mm

④ $4\text{ cm } 9\text{ mm} - 1\text{ mm} =$ cm mm

⑤ $7\text{ cm } 9\text{ mm} - 9\text{ mm} =$ cm

じこひょうか



1

なが
長さのたんいをけい算^{さん}しよう。

① $4\text{ cm } 9\text{ mm} - 2\text{ mm} =$ cm mm


② $5\text{ cm } 8\text{ mm} - 6\text{ mm} =$ cm mm

③ $5\text{ cm } 4\text{ mm} - 2\text{ mm} =$ cm mm

④ $4\text{ cm } 2\text{ mm} - 2\text{ mm} =$ cm

⑤ $5\text{ cm } 8\text{ mm} - 4\text{ mm} =$ cm mm

じこひょうか



1

なが 長さのたんいをけい算(さん)しよう。

① $2\text{ cm } 4\text{ mm} - 3\text{ mm} =$ cm mm


② $9\text{ cm } 4\text{ mm} - 4\text{ mm} =$ cm

③ $4\text{ cm } 9\text{ mm} - 4\text{ mm} =$ cm mm

④ $3\text{ cm } 8\text{ mm} - 7\text{ mm} =$ cm mm

⑤ $6\text{ cm } 5\text{ mm} - 3\text{ mm} =$ cm mm

じこひょうか



1

なが 長さのたんいをけい算(さん)しよう。

① $2\text{ cm } 8\text{ mm} - 1\text{ mm} =$ cm mm


② $6\text{ cm } 8\text{ mm} - 8\text{ mm} =$ cm

③ $8\text{ cm } 5\text{ mm} - 2\text{ mm} =$ cm mm

④ $3\text{ cm } 4\text{ mm} - 4\text{ mm} =$ cm

⑤ $9\text{ cm } 2\text{ mm} - 2\text{ mm} =$ cm

じこひょうか



1

なが長さのたんいをけい算しよう。

① 4 cm 6 mm - 3 mm = cm mm


② 5 cm 5 mm - 4 mm = cm mm

③ 8 cm 9 mm - 1 mm = cm mm

④ 1 cm 8 mm - 2 mm = cm mm

⑤ 5 cm 5 mm - 3 mm = cm mm

じこひょうか



1

なが
長さのたんいをけい算^{さん}しよう。

① $4\text{ cm } 2\text{ mm} - 1\text{ mm} =$ cm mm

② $8\text{ cm } 2\text{ mm} - 2\text{ mm} =$ cm

③ $1\text{ cm } 3\text{ mm} - 1\text{ mm} =$ cm mm

④ $4\text{ cm } 7\text{ mm} - 5\text{ mm} =$ cm mm

⑤ $6\text{ cm } 9\text{ mm} - 7\text{ mm} =$ cm mm

じこひょうか

