

1 つぎの数は10を何こ あつめた数ですか。

① 310 ()


② 520 ()

③ 840 ()

2 つぎの()にあう数を書きましょう。

① 400、410、()、430、440

② 620、630、()、650、660

じこひょうか		
		

1 つぎの数は10を何こ あつめた 数ですか。

① 460 ()

② 730 ()

③ 950 ()

2 つぎの () にあう 数を 書きましょう。

① 330、340、()、360、370

② 850、860、()、880、890

じこひょうか		
		

1 つぎの数は10を何こ あつめた数ですか。

① 470 ()

② 550 ()

③ 970 ()

2 つぎの()にあう数を書きましょう。

① 470、480、()、500、510

② 630、640、()、660、670

じこひょうか		
		

1 つぎの数は10を何こ あつめた数ですか。

① 170 ()

② 530 ()

③ 990 ()

2 つぎの()にあう数を書きましょう。

① 190、200、()、220、230

② 840、850、()、870、880

じこひょうか		
		

1 つぎの数は10を何こ あつめた数ですか。

① 140 ()


② 520 ()

③ 840 ()

2 つぎの()にあう数を書きましょう。

① 420、430、()、450、460

② 960、970、()、990、1000

じこひょうか		
		

1 つぎの数は10を何こ あつめた 数ですか。

① 340 ()



② 590 ()

③ 860 ()

2 つぎの()にあう 数を 書きましょう。

① 220、230、()、250、260

② 550、560、()、580、590

じこひょうか		
		

1 つぎの数は10を何こ あつめた数ですか。

① 360 ()

② 610 ()

③ 880 ()

2 つぎの()にあう数を書きましょう。

① 320、330、()、350、360

② 590、600、()、620、630

じこひょうか		
		

1 つぎの数は10を何こ あつめた数ですか。

① 130 ()



② 520 ()

③ 890 ()

2 つぎの()にあう数を書きましょう。

① 340、350、()、370、380

② 870、880、()、900、910

じこひょうか		
		

1 つぎの数は10を何こ あつめた数ですか。

① 170 ()



② 590 ()

③ 910 ()

2 つぎの()にあう数を書きましょう。

① 160、170、()、190、200

② 630、640、()、660、670

じこひょうか		
		

1 つぎの数は10を何こ あつめた 数ですか。

① 140 ()


② 560 ()

③ 920 ()

2 つぎの()にあう 数を 書きましょう。

① 370、380、()、400、410

② 800、810、()、830、840

じこひょうか		
		

3けたの数(2)
40

こたえ
① 2
① 1
390 14

② 2
② 2
820 56

③ 3
92

1 つぎの数は10を何こ あつめた数ですか。

① 410 ()


② 620 ()

③ 820 ()

2 つぎの()にあう数を書きましょう。

① 210、220、()、240、250

② 740、750、()、770、780

じこひょうか		
		

3けたの数(2)
41

こたえ
① 2
① 1
230 41

② ②
760 62

③
82

1 つぎの数は10を何こ あつめた数ですか。

① 210 ()



② 540 ()

③ 930 ()

2 つぎの()にあう数を書きましょう。

① 500、510、()、530、540

② 790、800、()、820、830

じこひょうか		
		

1 つぎの数は10を何こ あつめた 数ですか。

① 160 ()


② 730 ()

③ 930 ()

2 つぎの()にあう 数を 書きましょう。

① 320、330、()、350、360

② 940、950、()、970、980

じこひょうか		
		

1 つぎの数は10を何こ あつめた数ですか。

① 470 ()


② 630 ()

③ 890 ()

2 つぎの()にあう数を書きましょう。

① 210、220、()、240、250

② 870、880、()、900、910

じこひょうか		
		

1 つぎの数は10を何こ あつめた数ですか。

① 440 ()


② 520 ()

③ 830 ()

2 つぎの()にあう数を書きましょう。

① 120、130、()、150、160

② 550、560、()、580、590

じこひょうか		
		

1 つぎの数は10を何こ あつめた 数ですか。

① 290 ()


② 670 ()

③ 980 ()

2 つぎの()にあう 数を 書きましょう。

① 420、430、()、450、460

② 950、960、()、980、990

じこひょうか		
		

1 つぎの数は10を何こ あつめた数ですか。

① 470 ()

② 510 ()

③ 900 ()

2 つぎの()にあう数を書きましょう。

① 490、500、()、520、530

② 620、630、()、650、660

じこひょうか		
		

1 つぎの数は10を何こ あつめた数ですか。

① 370 ()


② 570 ()

③ 910 ()

2 つぎの()にあう数を書きましょう。

① 210、220、()、240、250

② 800、810、()、830、840

じこひょうか		
		

1 つぎの数は10を何こ あつめた数ですか。

① 110 ()


② 550 ()

③ 860 ()

2 つぎの()にあう数を書きましょう。

① 150、160、()、180、190

② 780、790、()、810、820

じこひょうか		
		

1 つぎの数は10を何こ あつめた数ですか。

① 130 ()


② 700 ()

③ 930 ()

2 つぎの()にあう数を書きましょう。

① 310、320、()、340、350

② 670、680、()、700、710

じこひょうか		
		

1 つぎの数は10を何こ あつめた 数ですか。

① 410 ()

② 600 ()

③ 950 ()

2 つぎの()にあう 数を 書きましょう。

① 290、300、()、320、330

② 800、810、()、830、840

じこひょうか		
		

1 つぎの数は10を何こ あつめた数ですか。

① 340 ()


② 760 ()

③ 930 ()

2 つぎの()にあう数を書きましょう。

① 200、210、()、230、240

② 520、530、()、550、560

じこひょうか		
		

1 つぎの数は10を何こ あつめた数ですか。

① 190 ()


② 760 ()

③ 960 ()

2 つぎの()にあう数を書きましょう。

① 270、280、()、300、310

② 580、590、()、610、620

じこひょうか		
		

1 つぎの数は10を何こ あつめた数ですか。

① 470 ()



② 800 ()

③ 900 ()

2 つぎの()にあう数を書きましょう。

① 290、300、()、320、330

② 640、650、()、670、680

じこひょうか		
		

1 つぎの数は10を何こ あつめた数ですか。

① 420 ()


② 780 ()

③ 940 ()

2 つぎの()にあう数を書きましょう。

① 350、360、()、380、390

② 530、540、()、560、570

じこひょうか		
		

1 つぎの数は10を何こ あつめた数ですか。

① 470 ()


② 570 ()

③ 850 ()

2 つぎの()にあう数を書きましょう。

① 170、180、()、200、210

② 530、540、()、560、570

じこひょうか		
		

1 つぎの数は10を何こ あつめた数ですか。

① 340 ()

② 540 ()

③ 860 ()

2 つぎの()にあう数を書きましょう。

① 180、190、()、210、220

② 860、870、()、890、900

じこひょうか		
		

1 つぎの数は10を何こ あつめた数ですか。

① 380 ()


② 570 ()

③ 920 ()

2 つぎの()にあう数を書きましょう。

① 470、480、()、500、510

② 900、910、()、930、940

じこひょうか		
		

1 つぎの数は10を何こ あつめた数ですか。

① 300 ()

② 790 ()

③ 900 ()

2 つぎの()にあう数を書きましょう。

① 180、190、()、210、220

② 810、820、()、840、850

じこひょうか		
		

1 つぎの数は10を何こ あつめた数ですか。

① 240 ()


② 670 ()

③ 830 ()

2 つぎの()にあう数を書きましょう。

① 480、490、()、510、520

② 700、710、()、730、740

じこひょうか		
		

3けたの数(2)
60

こたえ
① 2 ① 1
500 24

② ②
720 67

③
83