

1 つぎの数は10を何こ あつめた数ですか。

① 430 ()

② 710 ()

③ 990 ()

2 つぎの()にあう数を書きましょう。

① 320、330、()、350、360

② 850、860、()、880、890

じこひょうか		
		

1 つぎの数は10を何こ あつめた数ですか。

① 380 ()

② 580 ()

③ 880 ()

2 つぎの()にあう数を書きましょう。

① 340、350、()、370、380

② 800、810、()、830、840

じこひょうか		
		

1 つぎの数は10を何こ あつめた数ですか。

① 330 ()

② 720 ()

③ 830 ()

2 つぎの()にあう数を書きましょう。

① 280、290、()、310、320

② 870、880、()、900、910

じこひょうか		
		

1 つぎの数は10を何こ あつめた数ですか。

① 280 ()


② 600 ()

③ 930 ()

2 つぎの()にあう数を書きましょう。

① 490、500、()、520、530

② 910、920、()、940、950

じこひょうか		
		

1 つぎの数は10を何こ あつめた数ですか。

① 110 ()

② 540 ()

③ 890 ()

2 つぎの()にあう数を書きましょう。

① 440、450、()、470、480

② 900、910、()、930、940

じこひょうか		
		

1 つぎの数は10を何こ あつめた数ですか。

① 410 ()



② 530 ()

③ 830 ()

2 つぎの()にあう数を書きましょう。

① 380、390、()、410、420

② 900、910、()、930、940

じこひょうか		
		

1 つぎの数は10を何こ あつめた数ですか。

① 200 ()


② 790 ()

③ 840 ()

2 つぎの()にあう数を書きましょう。

① 320、330、()、350、360

② 680、690、()、710、720

じこひょうか		
		

1 つぎの数は10を何こ あつめた 数ですか。

① 360 ()

② 670 ()

③ 920 ()

2 つぎの()にあう 数を 書きましょう。

① 270、280、()、300、310

② 810、820、()、840、850

じこひょうか		
		

1 つぎの数は10を何こ あつめた数ですか。

① 480 ()


② 640 ()

③ 990 ()

2 つぎの()にあう数を書きましょう。

① 110、120、()、140、150

② 790、800、()、820、830

じこひょうか		
		

1 つぎの数は10を何こ あつめた数ですか。

① 460 ()


② 640 ()

③ 960 ()

2 つぎの()にあう数を書きましょう。

① 110、120、()、140、150

② 900、910、()、930、940

じこひょうか		
		

3けたの数(2)
70

こたえ
① 2
① 1

130 46

② ②

920 64

③

96

1 つぎの数は10を何こ あつめた数ですか。

① 370 ()



② 730 ()

③ 1000 ()

2 つぎの()にあう数を書きましょう。

① 340、350、()、370、380

② 520、530、()、550、560

じこひょうか		
		

1 つぎの数は10を何こ あつめた数ですか。

① 230 ()



② 650 ()

③ 810 ()

2 つぎの()にあう数を書きましょう。

① 150、160、()、180、190

② 570、580、()、600、610

じこひょうか		
		

1 つぎの数は10を何こ あつめた数ですか。

① 440 ()


② 710 ()

③ 850 ()

2 つぎの()にあう数を書きましょう。

① 180、190、()、210、220

② 700、710、()、730、740

じこひょうか		
		

3けたの数(2)
73

こたえ
① 2
① 1
200 44

② ②
720 71

③
85

1 つぎの数は10を何こ あつめた数ですか。

① 350 ()


② 590 ()

③ 840 ()

2 つぎの()にあう数を書きましょう。

① 430、440、()、460、470

② 910、920、()、940、950

じこひょうか		
		

1 つぎの数は10を何こ あつめた 数ですか。

① 250 ()

② 630 ()

③ 860 ()

2 つぎの()にあう 数を 書きましょう。

① 290、300、()、320、330

② 890、900、()、920、930

じこひょうか		
		

1 つぎの数は10を何こ あつめた数ですか。

① 370 ()


② 740 ()

③ 910 ()

2 つぎの()にあう数を書きましょう。

① 140、150、()、170、180

② 810、820、()、840、850

じこひょうか		
		

1 つぎの数は10を何こ あつめた数ですか。

① 240 ()


② 530 ()

③ 980 ()

2 つぎの()にあう数を書きましょう。

① 300、310、()、330、340

② 630、640、()、660、670

じこひょうか		
		

1 つぎの数は10を何こ あつめた数ですか。

① 160 ()

② 560 ()

③ 880 ()

2 つぎの()にあう数を書きましょう。

① 190、200、()、220、230

② 880、890、()、910、920

じこひょうか		
		

1 つぎの数は10を何こ あつめた数ですか。

① 340 ()



② 520 ()

③ 880 ()

2 つぎの()にあう数を書きましょう。

① 230、240、()、260、270

② 960、970、()、990、1000

じこひょうか		
		

1 つぎの数は10を何こ あつめた数ですか。

① 330 ()

② 590 ()

③ 910 ()

2 つぎの()にあう数を書きましょう。

① 300、310、()、330、340

② 690、700、()、720、730

じこひょうか		
		

1 つぎの数は10を何こ あつめた数ですか。

① 370 ()



② 690 ()

③ 910 ()

2 つぎの()にあう数を書きましょう。

① 200、210、()、230、240

② 790、800、()、820、830

じこひょうか		
		

1 つぎの数は10を何こ あつめた数ですか。

① 260 ()


② 710 ()

③ 940 ()

2 つぎの()にあう数を書きましょう。

① 330、340、()、360、370

② 870、880、()、900、910

じこひょうか		
		

1 つぎの数は10を何こ あつめた数ですか。

① 420 ()

② 750 ()

③ 850 ()

2 つぎの()にあう数を書きましょう。

① 290、300、()、320、330

② 610、620、()、640、650

じこひょうか		
		

1 つぎの数は10を何こ あつめた数ですか。

① 310 ()



② 530 ()

③ 1000 ()

2 つぎの()にあう数を書きましょう。

① 200、210、()、230、240

② 580、590、()、610、620

じこひょうか		
		

1 つぎの数は10を何こ あつめた数ですか。

① 400 ()


② 530 ()

③ 850 ()

2 つぎの()にあう数を書きましょう。

① 280、290、()、310、320

② 900、910、()、930、940

じこひょうか		
		

1 つぎの数は10を何こ あつめた数ですか。

① 370 ()

② 680 ()

③ 830 ()

2 つぎの()にあう数を書きましょう。

① 280、290、()、310、320

② 700、710、()、730、740

じこひょうか		
		

1 つぎの数は10を何こ あつめた数ですか。

① 300 ()


② 570 ()

③ 850 ()

2 つぎの()にあう数を書きましょう。

① 150、160、()、180、190

② 810、820、()、840、850

じこひょうか		
		

1 つぎの数は10を何こ あつめた数ですか。

① 180 ()



② 730 ()

③ 900 ()

2 つぎの()にあう数を書きましょう。

① 470、480、()、500、510

② 570、580、()、600、610

じこひょうか		
		

1 つぎの数は10を何こ あつめた数ですか。

① 490 ()


② 580 ()

③ 870 ()

2 つぎの()にあう数を書きましょう。

① 130、140、()、160、170

② 940、950、()、970、980

じこひょうか		
		

1 つぎの数は10を何こ あつめた数ですか。

① 490 ()

② 750 ()

③ 1000 ()

2 つぎの()にあう数を書きましょう。

① 140、150、()、170、180

② 540、550、()、570、580

じこひょうか		
		