

□ 1 ( ) に あう >、<、=を <sup>か</sup>書きましょう。

① 190 ( ) 190

② 522 ( ) 521

③ 923 ( ) 923

④ 180 ( ) 100 + 70

⑤ 580 ( ) 500 + 90

じこひょうか		
		

□ 1 ( ) に あう >、<、=を <sup>か</sup>書きましょう。

① 121 ( ) 121

② 488 ( ) 488

③ 925 ( ) 926

④ 410 ( ) 400 + 10

⑤ 630 ( ) 600 + 20

じこひょうか		
		

□ 1 ( ) に あう >、<、=を <sup>か</sup>書きましょう。

① 277 ( ) 277

② 576 ( ) 575

③ 896 ( ) 896

④ 550 ( ) 500 + 40

⑤ 490 ( ) 400 + 100

じこひょうか		
		

□ 1 ( ) に あう  $>$ 、 $<$ 、 $=$  を <sup>か</sup>書きましょう。

① 231 ( ) 232

② 584 ( ) 584

③ 673 ( ) 674

④ 780 ( ) 700 + 80

⑤ 860 ( ) 800 + 70

じこひょうか		
		

□ 1 ( ) に あう >、<、=を <sup>か</sup>書きましょう。

① 114 ( ) 114

② 379 ( ) 379

③ 975 ( ) 976

④ 420 ( ) 400 + 30

⑤ 410 ( ) 400 + 20

じこひょうか		
		

□ 1 ( ) に あう >、<、=を <sup>か</sup>書きましょう。



① 346 ( ) 347

② 450 ( ) 450

③ 831 ( ) 831

④ 640 ( ) 600 + 50

⑤ 210 ( ) 200 + 0

じこひょうか		
		

∧ ④  
∧ ①

∨ ⑤  
= ②

= ③

□ 1 ( ) に あう >、<、=を <sup>か</sup>書きましょう。

① 202 ( ) 203

② 558 ( ) 558

③ 963 ( ) 964

④ 620 ( ) 600 + 10

⑤ 180 ( ) 100 + 90

じこひょうか		
		

∨ ④  
∧ ①

∧ ⑤  
= ②

∧ ③

□ 1 ( ) に あう >、<、= を <sup>か</sup>書きましょう。

① 330 ( ) 330

② 403 ( ) 402

③ 606 ( ) 607

④ 850 ( ) 800 + 50

⑤ 350 ( ) 300 + 50

じこひょうか		
		



□ 1 ( ) に あう >、<、=を <sup>か</sup>書きましょう。


① 133 ( ) 133

② 514 ( ) 515

③ 847 ( ) 848

④ 810 ( ) 800 + 20

⑤ 590 ( ) 500 + 90

じこひょうか		
		

□ 1 ( ) に あう >、<、=を <sup>か</sup>書きましょう。


① 109 ( ) 110

② 525 ( ) 525

③ 803 ( ) 803

④ 150 ( ) 100 + 60

⑤ 150 ( ) 100 + 50

じこひょうか		
		

□ 1 ( ) に あう >、<、= を <sup>か</sup>書きましょう。

① 278 ( ) 278

② 552 ( ) 552

③ 736 ( ) 736

④ 830 ( ) 800 + 20

⑤ 290 ( ) 200 + 100

じこひょうか		
		

3けたの数(3)

=

こたえ

∨ ④  
= ①

∧ ⑤  
= ②

= ③

□ 1 ( ) に あう  $>$ 、 $<$ 、 $=$  を <sup>か</sup>書きましょう。

① 347 ( ) 348

② 413 ( ) 412

③ 741 ( ) 741

④ 770 ( ) 700 + 70

⑤ 700 ( ) 700 + 10

じこひょうか		
		

□ 1 ( ) に あう >、<、=を <sup>か</sup>書きましょう。

① 346 ( ) 347

② 442 ( ) 443

③ 945 ( ) 945

④ 520 ( ) 500 + 20

⑤ 160 ( ) 100 + 60



□ 1 ( ) に あう >、<、=を <sup>か</sup>書きましょう。


① 281 ( ) 282

② 554 ( ) 553

③ 920 ( ) 921

④ 860 ( ) 800 + 60

⑤ 890 ( ) 800 + 80

じこひょうか		
		

□ 1 ( ) に あう >、<、= を <sup>か</sup>書きましょう。

① 293 ( ) 293

② 498 ( ) 498

③ 748 ( ) 748

④ 240 ( ) 200 + 50

⑤ 260 ( ) 200 + 50

じこひょうか		
		

□ 1 ( ) に あう  $>$ 、 $<$ 、 $=$  を <sup>か</sup>書きましょう。

① 278 ( ) 278

② 360 ( ) 361

③ 670 ( ) 670

④ 420 ( )  $400 + 20$

⑤ 830 ( )  $800 + 30$

じこひょうか		
		



□ 1 ( ) に あう >、<、=を <sup>か</sup>書きましょう。


① 194 ( ) 195

② 387 ( ) 386

③ 627 ( ) 627

④ 540 ( ) 500 + 40

⑤ 400 ( ) 400 + -10

じこひょうか		
		

□ 1 ( ) に あう >、<、= を <sup>か</sup>書きましょう。



① 273 ( ) 273

② 488 ( ) 488

③ 947 ( ) 948

④ 930 ( ) 900 + 20

⑤ 160 ( ) 100 + 70

じこひょうか		
		

∨ ④  
= ①

∧ ⑤  
= ②

∧ ③

□ 1 ( ) に あう >、<、=を <sup>か</sup>書きましょう。

① 158 ( ) 158

② 455 ( ) 456

③ 766 ( ) 767

④ 120 ( ) 100 + 30

⑤ 600 ( ) 600 + -10

じこひょうか		
		

□ 1 ( ) に あう >、<、=を <sup>か</sup>書きましょう。

① 168 ( ) 169

② 407 ( ) 407

③ 909 ( ) 910

④ 520 ( ) 500 + 10

⑤ 430 ( ) 400 + 40

じこひょうか		
		

□ 1 ( ) に あう >、<、=を <sup>か</sup>書きましょう。

① 145 ( ) 145

② 475 ( ) 476

③ 621 ( ) 621

④ 580 ( ) 500 + 80

⑤ 860 ( ) 800 + 50



□ 1 ( ) に あう  $>$ 、 $<$ 、 $=$  を <sup>か</sup>書きましょう。


① 243 ( ) 244

② 553 ( ) 554

③ 667 ( ) 667

④ 570 ( )  $500 + 60$

⑤ 970 ( )  $900 + 70$



□ 1 ( ) に あう  $>$ 、 $<$ 、 $=$ を <sup>か</sup>書きましょう。


① 141 ( ) 142

② 573 ( ) 573

③ 985 ( ) 986

④ 180 ( )  $100 + 70$

⑤ 460 ( )  $400 + 60$

じこひょうか		
		

□ 1 ( ) に あう >、<、=を <sup>か</sup>書きましょう。

① 122 ( ) 123

② 479 ( ) 479

③ 862 ( ) 862

④ 120 ( ) 100 + 10

⑤ 650 ( ) 600 + 50

じこひょうか		
		



□ 1 ( ) に あう >、<、=を <sup>か</sup>書きましょう。

① 127 ( ) 128

② 540 ( ) 541

③ 720 ( ) 721

④ 640 ( ) 600 + 40

⑤ 840 ( ) 800 + 40



□ 1 ( ) に あう >、<、=を <sup>か</sup>書きましょう。


① 258 ( ) 258

② 522 ( ) 521

③ 701 ( ) 702

④ 220 ( ) 200 + 10

⑤ 210 ( ) 200 + 20

じこひょうか		
		

□ 1 ( ) に あう >、<、=を <sup>か</sup>書きましょう。


① 202 ( ) 202

② 449 ( ) 448

③ 960 ( ) 960

④ 290 ( ) 200 + 100

⑤ 890 ( ) 800 + 100



□ 1 ( ) に あう >、<、=を <sup>か</sup>書きましょう。

① 101 ( ) 102

② 425 ( ) 426

③ 719 ( ) 719

④ 220 ( ) 200 + 10

⑤ 560 ( ) 500 + 70

じこひょうか		
		

□ 1 ( ) に あう >、<、=を <sup>か</sup>書きましょう。

① 294 ( ) 294

② 498 ( ) 497

③ 866 ( ) 867

④ 640 ( ) 600 + 40

⑤ 170 ( ) 100 + 70



□ 1 ( ) に あう >、<、=を <sup>か</sup>書きましょう。

① 239 ( ) 240

② 450 ( ) 449

③ 797 ( ) 798

④ 970 ( ) 900 + 70

⑤ 690 ( ) 600 + 100

じこひょうか		
		