

①

たし算^{ざん}をしましょう。



① $70 + 40 =$

② $20 + 40 =$

③ $70 + 90 =$

④ $500 + 300 =$

⑤ $500 + 60 =$

じこひょうか		
		

① たし算^{ざん}をしましょう。

① $80 + 60 =$

② $10 + 30 =$

③ $80 + 30 =$

④ $700 + 200 =$

⑤ $700 + 20 =$



① たし算^{ざん}をしましょう。

① $70 + 30 =$

② $80 + 20 =$

③ $10 + 40 =$

④ $200 + 600 =$

⑤ $500 + 70 =$



1

たし算^{ざん}をしましょう。

① $80 + 10 =$

② $30 + 90 =$

③ $30 + 80 =$

④ $200 + 100 =$

⑤ $500 + 50 =$



1

たし算^{ざん}をしましょう。

① $10 + 40 =$

② $40 + 40 =$

③ $60 + 80 =$

④ $300 + 300 =$

⑤ $200 + 10 =$

じこひょうか



① たし算^{ざん}をしましょう。

① $90 + 90 =$

② $30 + 60 =$

③ $40 + 60 =$

④ $100 + 100 =$

⑤ $700 + 80 =$



① たし算^{ざん}をしましょう。

① $30 + 10 =$

② $20 + 90 =$

③ $40 + 10 =$

④ $200 + 400 =$

⑤ $400 + 50 =$



① たし算^{ざん}をしましょう。

① $30 + 70 =$

② $70 + 10 =$

③ $20 + 10 =$

④ $300 + 600 =$

⑤ $700 + 10 =$



① たし算^{ざん}をしましょう。

① $40 + 20 =$

② $70 + 40 =$

③ $70 + 40 =$

④ $600 + 300 =$

⑤ $900 + 30 =$



① たし算^{ざん}をしましょう。


① $20 + 30 =$

② $80 + 80 =$

③ $10 + 60 =$

④ $400 + 300 =$

⑤ $900 + 50 =$

じこひょうか		
		

3けたの数(4)

10

こたえ

④ ①

700 50

⑤ ②

950 160

③

70

1

たし算^{ざん}をしましょう。


① $80 + 90 =$

② $10 + 50 =$

③ $50 + 70 =$

④ $500 + 400 =$

⑤ $400 + 20 =$

じこひょうか		
		

① たし算^{ざん}をしましょう。


① $60 + 60 =$

② $90 + 10 =$

③ $90 + 10 =$

④ $100 + 700 =$

⑤ $500 + 40 =$



① たし算^{ざん}をしましょう。


① $80 + 30 =$

② $70 + 40 =$

③ $10 + 80 =$

④ $100 + 800 =$

⑤ $400 + 90 =$



① たし算^{ざん}をしましょう。


① $50 + 60 =$

② $40 + 70 =$

③ $50 + 50 =$

④ $200 + 100 =$

⑤ $100 + 10 =$

じこひょうか		
		

1

たし算^{ざん}をしましょう。


① $50 + 40 =$

② $30 + 10 =$

③ $70 + 10 =$

④ $800 + 100 =$

⑤ $800 + 90 =$

じこひょうか		
		

1

たし算^{ざん}をしましょう。

① $40 + 80 =$

② $20 + 20 =$

③ $10 + 90 =$

④ $100 + 500 =$

⑤ $800 + 80 =$



① たし算^{ざん}をしましょう。

① $60 + 70 =$

② $30 + 60 =$

③ $50 + 30 =$

④ $500 + 300 =$

⑤ $700 + 10 =$



① たし算^{ざん}をしましょう。

① $80 + 50 =$

② $10 + 50 =$

③ $20 + 90 =$

④ $100 + 600 =$

⑤ $400 + 20 =$



① たし算^{ざん}をしましょう。


① $60 + 10 =$

② $90 + 60 =$

③ $50 + 80 =$

④ $800 + 100 =$

⑤ $900 + 40 =$



1

たし算^{ざん}をしましょう。



① $40 + 80 =$

② $40 + 70 =$

③ $10 + 10 =$

④ $700 + 200 =$

⑤ $900 + 10 =$

じこひょうか		
		

①

たし算^{ざん}をしましょう。

① $70 + 70 =$

② $50 + 70 =$

③ $40 + 50 =$

④ $100 + 500 =$

⑤ $500 + 50 =$



① たし算^{ざん}をしましょう。

① $60 + 40 =$

② $90 + 30 =$

③ $10 + 90 =$

④ $300 + 300 =$

⑤ $700 + 60 =$



① たし算^{ざん}をしましょう。

① $70 + 30 =$

② $20 + 40 =$

③ $90 + 20 =$

④ $500 + 200 =$

⑤ $200 + 20 =$



1

たし算^{ざん}をしましょう。

① $70 + 80 =$

② $80 + 70 =$

③ $90 + 10 =$

④ $500 + 200 =$

⑤ $100 + 80 =$

じこひょうか		
		

① たし算^{ざん}をしましょう。

① $40 + 80 =$

② $90 + 70 =$

③ $80 + 20 =$

④ $600 + 200 =$

⑤ $800 + 40 =$



① たし算^{ざん}をしましょう。

① $50 + 20 =$

② $70 + 90 =$

③ $50 + 90 =$

④ $400 + 100 =$

⑤ $100 + 30 =$



① たし算^{ざん}をしましょう。


① $80 + 30 =$

② $80 + 30 =$

③ $70 + 60 =$

④ $100 + 200 =$

⑤ $800 + 50 =$



① たし算^{ざん}をしましょう。

① $10 + 20 =$

② $10 + 90 =$

③ $50 + 70 =$

④ $700 + 200 =$

⑤ $800 + 20 =$



① たし算^{ざん}をしましょう。

① $10 + 70 =$

② $40 + 80 =$

③ $40 + 70 =$

④ $800 + 100 =$

⑤ $400 + 80 =$



① たし算^{ざん}をしましょう。

① $10 + 70 =$

② $10 + 40 =$

③ $70 + 80 =$

④ $300 + 200 =$

⑤ $700 + 70 =$

