

1

ひき算<sup>ざん</sup>をしましょう。


①  $170 - 30 =$

②  $170 - 90 =$

③  $900 - 400 =$

④  $1000 - 600 =$

⑤  $890 - 90 =$

| じこひょうか   |   |   |
|--|---|---|
|  |  |  |

3けたの数(5)

-

こたえ

④ ①

400 140

⑤ ②

800 80

③

500

1

ひき算<sup>ざん</sup>をしましょう。

①  $180 - 20 =$

②  $120 - 40 =$

③  $400 - 100 =$

④  $600 - 500 =$

⑤  $590 - 90 =$



① ひき算<sup>ざん</sup>をしましょう。

①  $180 - 50 =$

②  $140 - 80 =$

③  $200 - 100 =$

④  $600 - 200 =$

⑤  $650 - 50 =$

| じこひょうか   |   |   |
|--|---|---|
|  |  |  |

① ひき算<sup>ざん</sup>をしましょう。

①  $170 - 30 =$

②  $120 - 70 =$

③  $600 - 500 =$

④  $700 - 300 =$

⑤  $120 - 20 =$

| じこひょうか   |   |   |
|--|---|---|
|  |  |  |

1

ひき算<sup>ざん</sup>をしましょう。

①  $160 - 40 =$

②  $120 - 50 =$

③  $900 - 500 =$

④  $500 - 100 =$

⑤  $660 - 60 =$

じこひょうか



1

ひき算<sup>ざん</sup>をしましょう。

①  $110 - 90 =$


②  $130 - 20 =$

③  $500 - 500 =$

④  $200 - 100 =$

⑤  $590 - 90 =$

じこひょうか



① ひき算<sup>ざん</sup>をしましょう。

①  $170 - 90 =$

②  $190 - 80 =$

③  $500 - 100 =$

④  $500 - 100 =$

⑤  $250 - 50 =$



① ひき算<sup>ざん</sup>をしましょう。

①  $190 - 10 =$

②  $110 - 40 =$

③  $1000 - 500 =$

④  $1000 - 200 =$

⑤  $610 - 10 =$



1

ひき算<sup>ざん</sup>をしましょう。

①  $110 - 60 =$

②  $180 - 10 =$

③  $800 - 300 =$

④  $500 - 100 =$

⑤  $320 - 20 =$

じこひょうか



1

ひき算<sup>ざん</sup>をしましょう。

①  $170 - 90 =$


②  $170 - 20 =$

③  $200 - 200 =$

④  $700 - 300 =$

⑤  $960 - 60 =$

じこひょうか



3けたの数(5)

10

こたえ

④ ①

400 80

⑤ ②

900 150

③

0

1

ひき算<sup>ざん</sup>をしましょう。


①  $160 - 90 =$

②  $190 - 70 =$

③  $500 - 300 =$

④  $500 - 300 =$

⑤  $440 - 40 =$

| じこひょうか   |   |   |
|--|---|---|
|  |  |  |

3けたの数(5)

=

こたえ

④ ①

200 70

⑤ ②

400 120

③

200

1

ひき算<sup>ざん</sup>をしましょう。

①  $130 - 80 =$


②  $130 - 40 =$

③  $500 - 200 =$

④  $200 - 100 =$

⑤  $960 - 60 =$

じこひょうか



1

ひき算<sup>ざん</sup>をしましょう。



①  $170 - 70 =$

②  $110 - 80 =$

③  $300 - 200 =$

④  $700 - 400 =$

⑤  $330 - 30 =$

| じこひょうか   |   |   |
|--|---|---|
|  |  |  |

1

ひき算<sup>ざん</sup>をしましょう。

①  $190 - 30 =$


②  $130 - 30 =$

③  $700 - 200 =$

④  $400 - 200 =$

⑤  $840 - 40 =$

じこひょうか



3けたの数(5)

14

こたえ

④ ①

200 160

⑤ ②

800 100

③

500

1

ひき算<sup>ざん</sup>をしましょう。

①  $140 - 70 =$

②  $140 - 90 =$

③  $800 - 200 =$

④  $300 - 100 =$

⑤  $990 - 90 =$

| じこひょうか   |   |   |
|--|---|---|
|  |  |  |

1

ひき算<sup>ざん</sup>をしましょう。


①  $150 - 30 =$

②  $160 - 20 =$

③  $700 - 600 =$

④  $900 - 700 =$

⑤  $160 - 60 =$



① ひき算<sup>ざん</sup>をしましょう。


①  $190 - 90 =$

②  $140 - 20 =$

③  $200 - 100 =$

④  $800 - 100 =$

⑤  $880 - 80 =$



1

ひき算<sup>ざん</sup>をしましょう。

①  $190 - 70 =$

②  $150 - 20 =$

③  $200 - 100 =$

④  $900 - 800 =$

⑤  $420 - 20 =$

じこひょうか



3けたの数(5)

18

こたえ

④ ①

100 120

⑤ ②

400 130

③

100

① ひき算<sup>ざん</sup>をしましょう。

①  $120 - 70 =$

②  $160 - 40 =$

③  $600 - 400 =$

④  $700 - 400 =$

⑤  $270 - 70 =$

| じこひょうか   |   |   |
|--|---|---|
|  |  |  |

1

ひき算<sup>ざん</sup>をしましょう。

①  $130 - 80 =$

②  $120 - 80 =$

③  $400 - 100 =$

④  $600 - 500 =$

⑤  $550 - 50 =$



① ひき算<sup>ざん</sup>をしましょう。


①  $120 - 20 =$

②  $180 - 30 =$

③  $900 - 300 =$

④  $700 - 200 =$

⑤  $580 - 80 =$



① ひき算<sup>ざん</sup>をしましょう。

①  $180 - 30 =$

②  $110 - 90 =$

③  $900 - 400 =$

④  $800 - 200 =$

⑤  $170 - 70 =$



① ひき算<sup>ざん</sup>をしましょう。

①  $150 - 30 =$

②  $170 - 60 =$

③  $900 - 300 =$

④  $900 - 700 =$

⑤  $530 - 30 =$



1

ひき算<sup>ざん</sup>をしましょう。


①  $140 - 30 =$

②  $180 - 40 =$

③  $800 - 500 =$

④  $900 - 400 =$

⑤  $220 - 20 =$



1

ひき算<sup>ざん</sup>をしましょう。

①  $150 - 40 =$

②  $160 - 70 =$

③  $700 - 300 =$

④  $500 - 100 =$

⑤  $410 - 10 =$



① ひき算<sup>ざん</sup>をしましょう。


①  $190 - 50 =$

②  $130 - 30 =$

③  $400 - 400 =$

④  $1000 - 600 =$

⑤  $480 - 80 =$



① ひき算<sup>ざん</sup>をしましょう。


①  $190 - 90 =$

②  $170 - 10 =$

③  $1000 - 1000 =$

④  $1000 - 500 =$

⑤  $680 - 80 =$



① ひき算<sup>ざん</sup>をしましょう。

①  $120 - 40 =$

②  $130 - 60 =$

③  $600 - 400 =$

④  $700 - 600 =$

⑤  $190 - 90 =$

| じこひょうか   |   |   |
|--|---|---|
|  |  |  |

① ひき算<sup>ざん</sup>をしましょう。

①  $120 - 20 =$

②  $170 - 30 =$

③  $1000 - 200 =$

④  $500 - 200 =$

⑤  $290 - 90 =$



① ひき算<sup>ざん</sup>をしましょう。

① 150 - 10 =

② 110 - 80 =

③ 400 - 300 =

④ 1000 - 500 =

⑤ 410 - 10 =



3けたの数(5)

30

こたえ

④ ①

500 140

⑤ ②

400 30

③

100