

① ひき算<sup>ざん</sup>をしましょう。

①  $160 - 90 =$

②  $160 - 50 =$

③  $900 - 100 =$

④  $1000 - 700 =$

⑤  $250 - 50 =$



① ひき算<sup>ざん</sup>をしましょう。

①  $150 - 70 =$

②  $110 - 10 =$

③  $700 - 500 =$

④  $600 - 400 =$

⑤  $840 - 40 =$



① ひき算<sup>ざん</sup>をしましょう。


①  $190 - 50 =$

②  $190 - 30 =$

③  $900 - 200 =$

④  $900 - 700 =$

⑤  $640 - 40 =$



1

ひき算<sup>ざん</sup>をしましょう。

①  $140 - 60 =$

②  $110 - 70 =$

③  $200 - 100 =$

④  $800 - 700 =$

⑤  $230 - 30 =$

じこひょうか		
		

① ひき算<sup>ざん</sup>をしましょう。

①  $140 - 50 =$

②  $170 - 10 =$

③  $800 - 400 =$

④  $300 - 200 =$

⑤  $790 - 90 =$

じこひょうか		
		

3けたの数(5)  
65

こたえ

④ 100  
① 90

⑤ 700  
② 160

③ 400

① ひき算<sup>ざん</sup>をしましょう。

① 150 - 80 =

② 120 - 30 =

③ 600 - 300 =

④ 700 - 300 =

⑤ 970 - 70 =



3けたの数(5)  
66

こたえ

④ 1  
400 70

⑤ 2  
900 90

③  
300

① ひき算<sup>ざん</sup>をしましょう。

①  $130 - 40 =$

②  $140 - 70 =$

③  $1000 - 500 =$

④  $500 - 200 =$

⑤  $510 - 10 =$



1

ひき算<sup>ざん</sup>をしましょう。

①  $140 - 60 =$

②  $150 - 70 =$

③  $600 - 600 =$

④  $200 - 100 =$

⑤  $490 - 90 =$

じこひょうか		
		



① ひき算<sup>ざん</sup>をしましょう。

①  $180 - 60 =$

②  $140 - 80 =$

③  $900 - 800 =$

④  $200 - 100 =$

⑤  $980 - 80 =$



1

ひき算<sup>ざん</sup>をしましょう。

①  $110 - 40 =$

②  $120 - 70 =$

③  $300 - 300 =$

④  $600 - 100 =$

⑤  $820 - 20 =$

じこひょうか		
		

3けたの数(5)

70

こたえ

④ ①

500 70

⑤ ②

800 50

③

0

① ひき算<sup>ざん</sup>をしましょう。

①  $170 - 60 =$

②  $120 - 10 =$

③  $500 - 400 =$

④  $1000 - 500 =$

⑤  $450 - 50 =$



① ひき算<sup>ざん</sup>をしましょう。


①  $140 - 30 =$

②  $120 - 80 =$

③  $1000 - 200 =$

④  $800 - 200 =$

⑤  $880 - 80 =$



① ひき算<sup>ざん</sup>をしましょう。

①  $140 - 80 =$

②  $140 - 40 =$

③  $300 - 100 =$

④  $700 - 200 =$

⑤  $810 - 10 =$



① ひき算<sup>ざん</sup>をしましょう。

①  $180 - 30 =$

②  $150 - 90 =$

③  $300 - 300 =$

④  $800 - 200 =$

⑤  $270 - 70 =$

じこひょうか		
		

① ひき算<sup>ざん</sup>をしましょう。

①  $190 - 60 =$

②  $170 - 20 =$

③  $600 - 600 =$

④  $200 - 100 =$

⑤  $270 - 70 =$



3けたの数(5)  
75

こたえ

④ ①  
100 130

⑤ ②  
200 150

③  
0

① ひき算<sup>ざん</sup>をしましょう。

①  $140 - 70 =$

②  $190 - 70 =$

③  $200 - 200 =$

④  $500 - 200 =$

⑤  $410 - 10 =$

じこひょうか		
		



① ひき算<sup>ざん</sup>をしましょう。



①  $150 - 50 =$

②  $120 - 10 =$

③  $900 - 900 =$

④  $1000 - 400 =$

⑤  $670 - 70 =$

じこひょうか		
		

① ひき算<sup>ざん</sup>をしましょう。

①  $140 - 40 =$

②  $160 - 30 =$

③  $800 - 400 =$

④  $700 - 600 =$

⑤  $820 - 20 =$

じこひょうか		
		

① ひき算<sup>ざん</sup>をしましょう。


①  $180 - 30 =$

②  $170 - 50 =$

③  $600 - 100 =$

④  $500 - 100 =$

⑤  $260 - 60 =$

じこひょうか		
		

① ひき算<sup>ざん</sup>をしましょう。

①  $170 - 20 =$

②  $160 - 10 =$

③  $900 - 700 =$

④  $500 - 100 =$

⑤  $180 - 80 =$



3けたの数(5)

80

こたえ

④ ①

400 150

⑤ ②

100 150

③

200

① ひき算<sup>ざん</sup>をしましょう。

①  $130 - 50 =$

②  $150 - 20 =$

③  $700 - 700 =$

④  $800 - 700 =$

⑤  $960 - 60 =$

じこひょうか		
		

① ひき算<sup>ざん</sup>をしましょう。

①  $150 - 30 =$

②  $140 - 90 =$

③  $300 - 300 =$

④  $600 - 200 =$

⑤  $530 - 30 =$

じこひょうか		
		

① ひき算<sup>ざん</sup>をしましょう。


①  $140 - 50 =$

②  $120 - 30 =$

③  $900 - 500 =$

④  $1000 - 600 =$

⑤  $720 - 20 =$

じこひょうか		
		

① ひき算<sup>ざん</sup>をしましょう。


①  $140 - 30 =$

②  $190 - 30 =$

③  $200 - 200 =$

④  $400 - 100 =$

⑤  $190 - 90 =$

じこひょうか		
		



① ひき算<sup>ざん</sup>をしましょう。

①  $130 - 30 =$

②  $170 - 50 =$

③  $300 - 100 =$

④  $500 - 400 =$

⑤  $110 - 10 =$



① ひき算<sup>ざん</sup>をしましょう。

①  $180 - 20 =$

②  $160 - 90 =$

③  $900 - 200 =$

④  $600 - 500 =$

⑤  $870 - 70 =$



① ひき算<sup>ざん</sup>をしましょう。

①  $180 - 90 =$

②  $120 - 40 =$

③  $200 - 100 =$

④  $400 - 200 =$

⑤  $520 - 20 =$

じこひょうか		
		

① ひき算<sup>ざん</sup>をしましょう。


①  $190 - 40 =$

②  $150 - 70 =$

③  $500 - 300 =$

④  $800 - 600 =$

⑤  $640 - 40 =$



① ひき算<sup>ざん</sup>をしましょう。

①  $180 - 70 =$

②  $120 - 70 =$

③  $500 - 200 =$

④  $400 - 300 =$

⑤  $650 - 50 =$



1

ひき算<sup>ざん</sup>をしましょう。

①  $190 - 90 =$

②  $180 - 80 =$

③  $700 - 100 =$

④  $900 - 600 =$

⑤  $330 - 30 =$

じこひょうか		
		

3けたの数(5)

90

こたえ

④ ①

300 100

⑤ ②

300 100

③

600