

1年

いくつといくつ10

|

月

日

1

10はいくつといくつですか。

①

10	
4	

④

10	
2	

②

10	
9	




⑤

10	
6	

③

10	
7	

じこひょうか

		
--	---	---

3 ③

4 1

8 ④
9 ①

こたえ

1

いくつといくつ10



1

10はいくつといくつですか。

①

10	
4	

④

10	
1	

②

10	
7	




⑤

10	
6	

③

10	
5	

じこひょうか

		
--	---	---

2

いくつといくつ10

こたえ

④ 9
① 6

4 3

③ 5



1

10はいくつといくつですか。

①

10	
8	

④

10	
6	

②

10	
1	




⑤

10	
5	

③

10	
3	

じこひょうか

		
--	---	---

3

いくつといくつ10

こたえ

④ 1
4 2

5 9

③ 7



1

10はいくつといくつですか。

①

10	
8	

④

10	
4	

②

10	
6	




⑤

10	
3	

③

10	
5	

じこひょうか

		
--	---	---

4

いくつといくつ10

こたえ

④ 6
① 2

7 4

③ 5



1

10はいくつといくつですか。

①

10	
7	

④

10	
9	

②

10	
4	




⑤

10	
3	

③

10	
1	

じこひょうか

		
--	---	---

5

いくつといくつ10

こたえ

④ 1
③ 3

7 6

③ 9



1

10はいくつといくつですか。

①

10	
1	

④

10	
4	

②

10	
2	




⑤

10	
6	

③

10	
8	

じこひょうか

		
--	---	---

③ 2

4 8

④ 1 6 9

こたえ

6

いくつといくつ10



1

10はいくつといくつですか。

①

10	
3	

④

10	
2	

②

10	
4	




⑤

10	
9	

③

10	
5	

じこひょうか

		
--	---	---

いくつといくつ10

7

こたえ

④ 8
① 7

1 6

③ 5



1

10はいくつといくつですか。

①

10	
6	

④

10	
5	

②

10	
9	




⑤

10	
2	

③

10	
7	

じこひょうか

		
--	---	---

3 ③

8
15 ④
4 ①

こたえ

8

いくつといくつ10



1年

いくつといくつ10

9

月

日

1

10はいくつといくつですか。

①

10	
3	

④

10	
2	

②

10	
8	

⑤

10	
6	

③

10	
5	

じこひょうか

		
--	---	---

9

いくつといくつ10

こたえ

④ 8
① 7

4 2

③ 5



1年

いくつといくつ10

10

月

日

1

10はいくつといくつですか。

①

10	
3	

④

10	
5	

②

10	
8	




⑤

10	
1	

③

10	
2	

じこひょうか

		
--	---	---

10

いくつといくつ10

こたえ

④ 1
5 7

9 2

③ 8

