

1

10はいくつといくつですか。

①

10	
8	

④

10	
4	

②

10	
7	




⑤

10	
5	

③

10	
1	

じこひょうか

		
--	---	---

③ 9

5 3

④ 6 ① 2

こたえ

11

いくつといくつ10



1

10はいくつといくつですか。

①

10	
1	

④

10	
5	

②

10	
4	




⑤

10	
6	

③

10	
7	

じこひょうか

		
--	---	---

12

いくつといくつ10

こたえ

④ 1
5 9

4 6

③ 3



1

10はいくつといくつですか。

①

10	
4	

④

10	
8	

②

10	
6	




⑤

10	
3	

③

10	
9	

じこひょうか

		
--	---	---

13

いくつといくつ10

こたえ

④ 2
① 6

7 4

③ 1



1

10はいくつといくつですか。

①

10	
8	

④

10	
9	

②

10	
6	

⑤

10	
5	

③

10	
2	

じこひょうか

		
--	---	---

8 ③

5
41 ④
2 ①

こたえ

14

いくつといくつ10



1

10はいくつといくつですか。

①

10	
8	

④

10	
7	

②

10	
9	

⑤

10	
2	

③

10	
3	

じこひょうか

		
--	---	---

いくつといくつ10

15

こたえ

④ 3
① 2

8 1

③ 7



1

10はいくつといくつですか。

①

10	
6	

④

10	
8	

②

10	
3	




⑤

10	
9	

③

10	
1	

じこひょうか

		
--	---	---

16

いくつといくつ10

こたえ

④ 1
2 4

1 7

③ 9



1

10はいくつといくつですか。

①

10	
9	

④

10	
8	

②

10	
6	




⑤

10	
3	

③

10	
7	

じこひょうか

		
--	---	---

いくつといくつ10

17

こたえ

④ 2
① 1

7 4

③ 3



1

10はいくつといくつですか。

①

10	
5	

④

10	
8	

②

10	
6	




⑤

10	
9	

③

10	
1	

じこひょうか

		
--	---	---

③ 9

1 4

④ 2
① 5

こたえ

18

いくつといくつ10



1

10はいくつといくつですか。

①

10	
8	

④

10	
6	

②

10	
7	




⑤

10	
3	

③

10	
2	

じこひょうか

		
--	---	---

③ 8

7 3

④ 4 ① 2

こたえ

19

いくつといくつ10



1

10はいくつといくつですか。

①

10	
5	

④

10	
9	

②

10	
6	




⑤

10	
3	

③

10	
8	

じこひょうか

		
--	---	---

