

1 10はいくつといくつですか。

①

10	
4	

④

10	
7	

②

10	
3	




⑤

10	
5	

③

10	
1	

じこひょうか

		
--	---	---

21

いくつといくつ10

こたえ

④ 1  
3 6

5 7

③ 9



1 10はいくつといくつですか。

①

10	
1	

④

10	
3	

②

10	
2	




⑤

10	
4	

③

10	
5	

じこひょうか

		
--	---	---

いくつといくつ10

22

こたえ

④ ①  
7 9

6 8

③ 5



1 10はいくつといくつですか。

①

10	
1	

④

10	
4	

②

10	
9	




⑤

10	
5	

③

10	
6	

じこひょうか

		
--	---	---

23

いくつといくつ10

こたえ

④ 1  
6 9

5 1

③ 4



1 10はいくつといくつですか。

①

10	
9	

④

10	
4	

②

10	
8	




⑤

10	
5	

③

10	
2	

じこひょうか

		
--	---	---

いくつといくつ10

24

こたえ

④ 1

6 1

5 2

③ 8



1 10はいくつといくつですか。

①

10	
6	

④

10	
2	

②

10	
5	




⑤

10	
4	

③

10	
9	

じこひょうか

		
--	---	---

25

いくつといくつ10

こたえ

④ 1  
8 4

6 5

③ 1



1 10はいくつといくつですか。

①

10	
2	

④

10	
1	

②

10	
6	




⑤

10	
8	

③

10	
5	

じこひょうか

		
--	---	---

26

いくつといくつ10

こたえ

④ 1  
9 8

2 4

③ 5



1 10はいくつといくつですか。

①

10	
1	

④

10	
3	

②

10	
7	




⑤

10	
6	

③

10	
5	

じこひょうか

		
--	---	---

いくつといくつ10

27

こたえ

④ 1  
7 9

4 3

③ 5



1 10はいくつといくつですか。

①

10	
9	

④

10	
1	

②

10	
8	




⑤

10	
3	

③

10	
7	

じこひょうか

		
--	---	---

28

いくつといくつ10

こたえ

④ ①  
9 1

7 2

③ 3





1 10はいくつといくつですか。

①

10	
8	

④

10	
2	

②

10	
6	




⑤

10	
1	

③

10	
9	

じこひょうか

		
--	---	---

いくつといくつ10

29

こたえ

④ 1  
8 2

9 4

③ 1



1 10はいくつといくつですか。

①

10	
7	

④

10	
2	

②

10	
8	




⑤

10	
5	

③

10	
9	

じこひょうか

		
--	---	---

いくつといくつ10

30

こたえ

④ 1  
8 3

5 2

③ 1

